

TEKMOVANJE IZ ZNANJA

NARAVOSLOVJA

1. RAZRED

9. FEBRUAR 2017

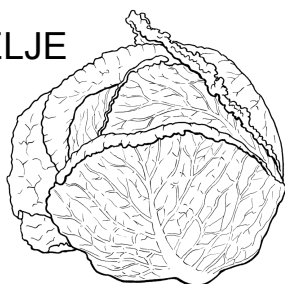
1	2	3 A	3 B	3 C	3 D	3 E	3 F	4 A	4 B	4 C	4 D	4 E	5

6	7 A	7 B	7 C	7 D	7 E	7 F	8.1	8.2	8.3	8.4	8.5	9

1. KAJ POMENI, DA JE PRST (ZEMLJA) SUHA? **OBKROŽI** PRAVILNI ODGOVOR. [3t]
- (A) V PRSTI NI ZRAKA.
 - (B) V PRSTI JE MANJ VODE.
 - (C) V PRSTI NI KAMENČKOV.
 - (D) V PRSTI JE VEČ DROBNIH VEJIC.

2. RASTLINE POTREBUJEJO VODO. **OBKROŽI** SLIKO RASTLINE, KI POTREBUJE NAJMANJ VODE. [3t]

(A) ZELJE



(B) ZVONČEK




(C) TRTA



(D) BUČA




(E) KAKTUS



3.

OBKROŽI PREDMETE, KI LAHKO PADEJO SKOZI SITO.

[6t]



4.

KAKŠEN JE ŽELATINAST MEDVEDEK, KI SE JE 2 URI NAMAKAL V VODI? **OBKROŽI** PRAVILNE ODGOVORE.

(A) MEHKEJŠI

[5t]

(B) TRŠI

(C) SPOLZEK

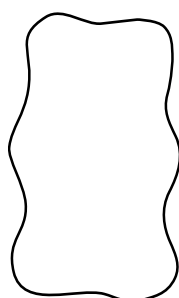
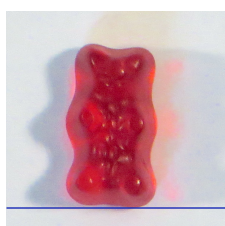
(D) SVETLEJŠE BARVE

(E) ENAK KOT PREJ

5.

ŽELATINASTEGA MEDVEDKA NA FOTOGRAFIJI DAMO ZA 3 URE V VODO. KAKO VELIK BO PO NAMAKANJU? **OBKROŽI** SLIKO S PRAVILNIM ODGOVOROM.

[2t]



(A)



(B)



(C)



(D)

6.

ŠKATLA JE POLNA RIŽA. **OBKROŽI** FOTOGRAFIJO, NA KATERI JE ŠKATLA POSTAVLJENA TAKO, DA JO NAJLAŽJE PREVRNEŠ.

[2t]



(A)



(B)




(C)

7.


V VSAKEM PARU DEKLIC **OBKROŽI** TISTO OD NJIJU, KI LAŽJE OHRANJA RAVNOTEŽJE.

[6t]


7 A




7 B




7 C




7 D



7 E



7 F

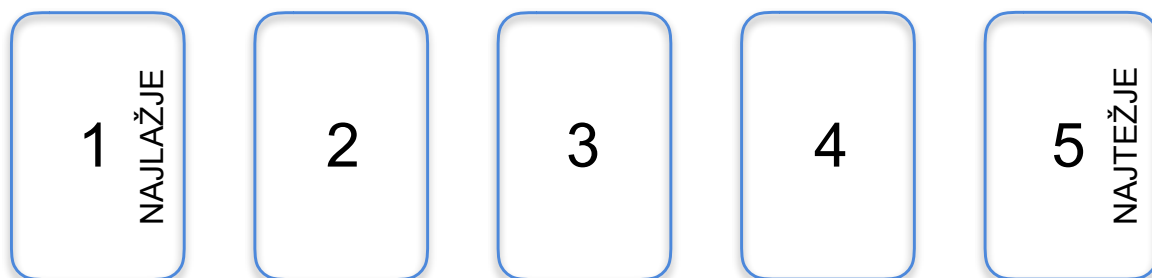



8.

UREDI DEKLICE PO VRSTI GLEDE NA TO, KAKO OHRANJAJO RAVNOTEŽJE: 1 POMENI NAJLAŽJE, 5 PA NAJTEŽJE.

[5t]

NARIŠI OD VSAKE DEKLICE PUŠČICO V OKVIRČEK Z USTREZNO ŠTEVILKO.



9.

ŠTIRJE ENAKI PLASTIČNI KOZARCI STOJIJO NA MIZI. V DVEH JE VODA, DVA PA STA PRAZNA. KATEREGA NAJLAŽJE PREVRNEŠ, ČE PIHAŠ VANJ? **OBKROŽI** GA.

[2t]

